

Zahlenraum bis 20

Gerade oder ungerade Zahlen? Unterstreiche.



gerade | ungerade



gerade | ungerade



gerade | ungerade




gerade | ungerade




gerade | ungerade




gerade | ungerade



gerade | ungerade






gerade | ungerade



gerade | ungerade

Wie oft findest du die Tiere? Trage sie richtig in die Tabelle ein.



| | gerade | ungerade |
|---|--------|----------|
|  | | |
|  | | |
|  | | |

